



# موسسه آموزشی راه تازه کودکان دنیا

آمادگی و دبستان دخترانه غیردولتی

## سرگذشت نو

نام و نام خانوادگی:

ارزشیابی ریاضی

پایه اول

فروردین 99

تفکر، مشارکت، دست ورزی

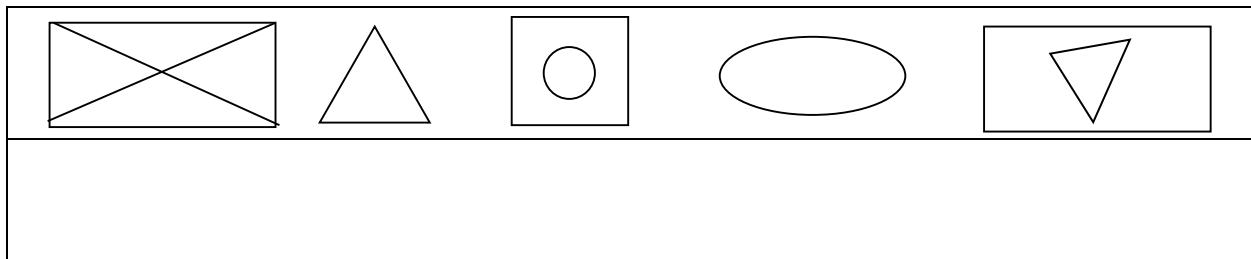
1- دختر گلم عدد های زیر را به صورت عدد و حروف بنویس.

46		85	99			15
	هشت			شصت و هفت	بیست و پنج	

2- دختر نازم به سوالات پاسخ بده .

- چهار ده تایی و پنج یکی می شود : .....
- شش ده تایی و سه یکی می شود : .....
- نه ده تایی و سه یکی می شود : .....
- پنج ده تایی و پنج یکی می شود : .....
- چهار یکی و هشت ده تایی می شود : .....
- 50 می شود ..... ده تایی و ..... یکی
- 65 می شود ..... ده تایی و ..... یکی
- 43 می شود ..... ده تایی و ..... یکی
- 13 می شود ..... ده تایی و ..... یکی
- 29 می شود ..... ده تایی و ..... یکی

3- فرشته ام نیمه دیگر شکل ها را بکش.

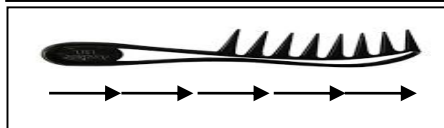

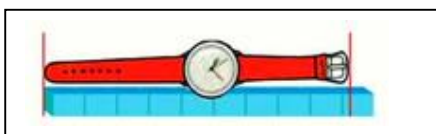


4- عزیزم با توجه به شکل ها جمع و تفریق را بنویسید.










5- کامل کنید .

- اندازه ساعت کمی کوتاه تر از ..... چینه است .
- اندازه مداد کمی بلندتر از ..... چینه است .
- اندازه شانه ..... است .
- اندازه مداد بین ..... و ..... چینه است .
- اندازه ساعت بین ..... و ..... چینه است .



6- نازنینم جدول های زیر را کامل کن .

4		5	6	1	3
	6	1	4	5	2
5	3	4	2	6	
6	1	2	5		4
2	5	3		4	6
1	4		3	2	5

7- عزیزم نیمه دیگر شکل را رنگ بزن .


8- فرشته ام جدول های زیر را به صورت نظام دار حل کن . 9 - عزیزم با توجه به جاهای خالی شکل مناسب بکش .

$$\dots + \dots + \dots = 16$$

9	

5	

9- دخترم مسئله ها را بخوان و با محور نشان بده .

-امین 5 توپ قرمز دارد . امروز 6 توپ آبی هم خرید . حالا او چند توپ دارد ؟

8- ماهی قرمز در آب بودند . دیروز نسرین 3 تا از ماهی ها را به برادرش داد . حالا چند ماهی در آب هستند ؟

11- ادامه بده .

$$\begin{array}{c} 2 \rightarrow 4 \rightarrow 6 \\ +2 \quad +2 \end{array} \quad \dots - \dots$$

10- برای عدد زیر شکل مناسب بکش و در جدول قرار بده .

38

13- زیبایم علامت و عدد مناسب بگذار .

8    80            54    45            22    20

$\dots > 0$          $\dots < 18$          $\dots > 36$

$\dots < 45$          $\dots > 80$          $\dots < 25$

12- کلم جمع و تفریق ها را کامل کن .

$60-50=$                        $30+40=$

$20+40=$                        $70-30=$

$10+30=$                        $30-10=$

$60+30=$                        $20+50=$